

MATEMATYKA:

Wartość liczbową wyrażenia $\left[\left(a + \frac{ab}{a-b} \right) \cdot \left(\frac{ab}{a+b} - a \right) \right] : \frac{1}{a-b}$ dla $a = -1$, $b = 0,5$ jest równa:

A. -2,5

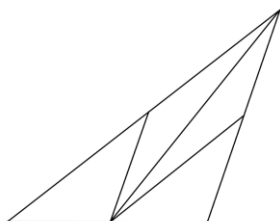
B. -2

C. 2

D. 2,5

MATEMATYKA:

Spójrz na poniższy rysunek. Ile trójkątów widzisz?



MATEMATYKA:

Przed Tobą znajduje się ciąg cyfr: 1 2 3 4 5 6 7 8 9. Pomiedzy cyframi mozesz umieścić znak dodawania, odejmowania, mnożenia i dzielenia. Mozesz również nie wstawiać żadnego ze znaków – wówczas cyfry, które znajdują się obok siebie, połączą się (np. 5 i 6 dadzą 56).

Czy w ten sposób jesteś w stanie ułożyć równanie, którego wynik da 100?

BIOLOGIA:

Na rysunku przedstawiono staw łokciowy.



Źródło: <https://krio-star.pl/fizjoterapia/lokiec-tenisisty/>

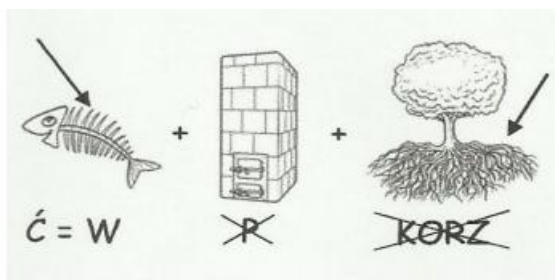
Podaj nazwę struktury oznaczonej na rysunku literą Z, a następnie wybierz nazwę tkanki (A-D), z której jest zbudowana ta struktura.

Nazwa struktury oznaczonej literą Z:

Struktura oznaczona na rysunku literą Z jest zbudowana z tkanki:

- A. Mięśniowej
- B. Łącznej
- C. Nabłonkowej
- D. Nerwowej

HISTORIA:




Jaki wpływ na XVIII wiek miało określenie z rozwiązania rebusu?

GEOGRAFIA:

Na fotografiach strzałkami oznaczono formy, które powstały w wyniku działalności wybranych czynników rzeźbotwórczych.

W tabeli zapisano numery zdjęć i rodzaj informacji do uzupełnienia.



Na podstawie fotografii uzupełnij tabelę, wpisując w puste komórki nazwę właściwego czynnika, procesu i formy tak, aby powstał układ przyczynowo – skutkowy.

Numer fotografii	Czynnik	Proces	Forma
1.			
2.			
3.			

JĘZYK POLSKI:

W poniższym zdaniu z „Pana Tadeusza” znajduje się pewien środek stylistyczny. Jak on się nazywa?

„Tu kapusta, sędziwie schylając łysiny, siedzi i zda się dumać o losach jarzyny.”

JĘZYK POLSKI

Zapoznaj się z wyrazami w poniższym zbiorze a następnie określ jaka to część mowy i i wpisz je do tabeli:

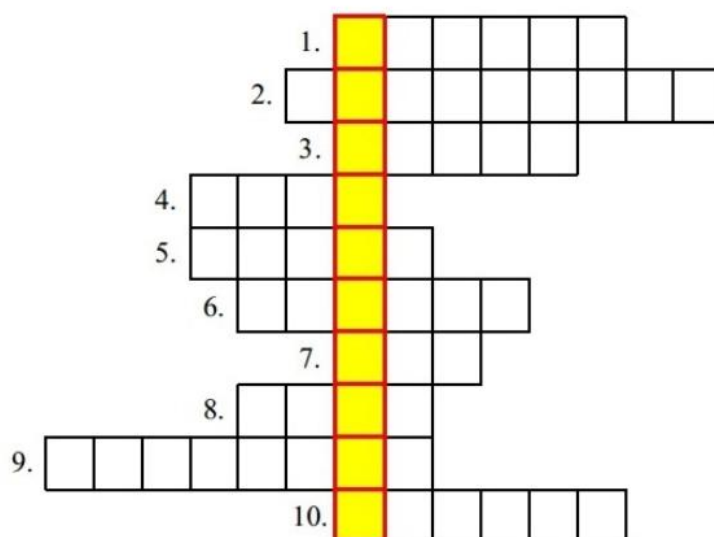
Części mowy

nasza	trzask	mój	biały	swój	one
radość	jego	znakowanie	ból	liczny	tu
przysłowie	my	hałasowanie	kosmos	mu	cudna
muzyka	droga	kiedy	smaczny	słodka	który
huk	szybkie	słoneczne	jasny	życzliwa	ktoś
krzyczenie	kwaśny	głowa	skorzystanie	małe	

ZAIMKI	RZECZOWNIKI	PRZYMIOTNIKI

JĘZYK ANGIELSKI

Rozwiąż krzyżówkę i podaj hasło:



1. It's a yellow fruit
2. It,s on 31st October
3. The opposite of big
4. You can read it
5. The grass is...
6. It begins in September
7. You sleep in it
8. Twelve months
9. Lewandowski plays...
10. It,s the capital of the United Kingdom

